



Musikschule: _____

Schriftliche Überprüfung

Elementare Musiklehre 2

Notenmaus 2

Name: _____

1.) Ist der zweite Ton höher oder tiefer als der erste Ton?

2 Punkte

☐
Beispiel 1: höher ☐Beispiel 2: höher ☐tiefer ☐tiefer ☐

2.) Ist der zweite Ton länger oder kürzer als der erste Ton?

2 Punkte

☐
Beispiel 1: länger ☐Beispiel 2: länger ☐kürzer ☐kürzer ☐

3.) Was bedeuten diese Zeichen?

2 Punkte

☐
f (forte) _____*p* (piano) _____

4.) Schreibe die Namen der Töne unter die Notenzeile!
 Schreibe die Töne als Viertel Noten in die Notenzeile!

10 Punkte


☐


— — — — — g1 d1 c2 e1 a1



5.) Zeichne die Notenhäse!

10 Punkte



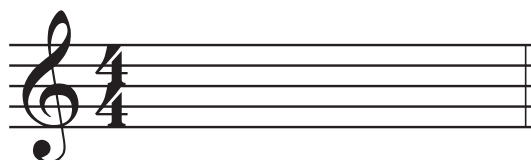
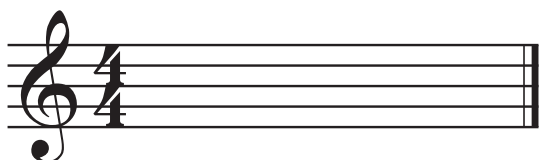
6.) Setze die fehlenden Taktstriche ein!

4 Punkte



7.) Schreibe den Rhythmus den du hörst!

2 Punkte



8.) Schreibe folgende Noten und Pausen!

8 Punkte

Halbe Note: ____

Achtel Pause: ____

Viertel Note: ____

Ganze Pause: ____

Achtel Noten: ____

Halbe Pause: ____

Ganze Note: ____

Viertel Pause: ____

40 - 35 P.: Sehr gut

34 - 29 P.: Gut

28 - 23 P.: Befriedigend

22 - 17 P.: Genügend

16 - 0 P.: Nicht genügend

Gesamtpunkte: _____

Beurteilung: _____

Datum: _____ Unterschrift der Lehrperson: _____